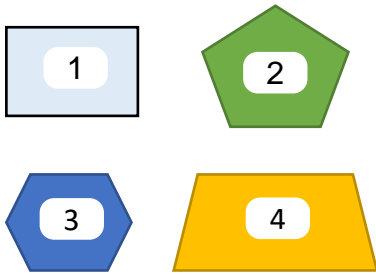




Сурагчийн нэр:

Эхэлсэн: он сар өдөр


1 Хүснэгтэд бичээрэй.




№	Дүрсийн нэр	Өнцгийн тоо	Талын тоо
1			
2			
3			
4			

2 Цэгүүдийг ашиглан өгсөн олон өнцөгтийг зураарай.


а. Гурван өнцөгт




б. Таван өнцөгт




в. Зургаан өнцөгт



3 Өөрийн мэдэх олон өнцөгтүүдийг зураарай.



4 Өөрийн мэдэх олон өнцөгт биш дүрсүүдийг зураарай.



5 Өгүүлбэр тус бүрийн үнэн, худлыг шалгаж, тэмдэглээрэй.

а. Таван өнцөгт нь таван ирмэгтэй. Үнэн Худал

б. Зургаан өнцөгт нь зургаан талтай. Үнэн Худал

6 Өгүүлбэр тус бүрийг гүйцээн бичээрэй.

а. Дөрвөн өнцөгт дөрвөн _____, _____.

б. Квадратын бүх өнцөг _____.

Дууссан:сарөдөр



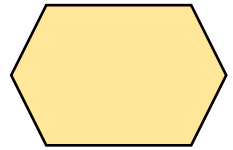
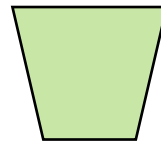
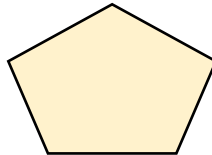
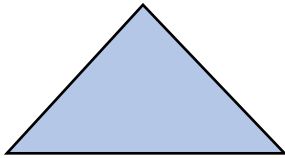
Даалгавар	1	2	3	4	5	6
Өөрийн үнэлгээ	😊	😊	😊	😊	😊	😊




Сурагчийн нэр:

Эхэлсэн: он сар өдөр

1 Олон өнцөгтийг нэрлээрэй.



3 Өөрийн мэдэх гурвалжныг зураарай.



4 Харилцан паралель талуудтай дөрвөн өнцөгтүүд зураарай.





2 Олон өнцөгтийн талууд ба өнцгийг хэмжээд дүгнэлт бичээрэй.

а.



б.



Дууссан:сарөдөр

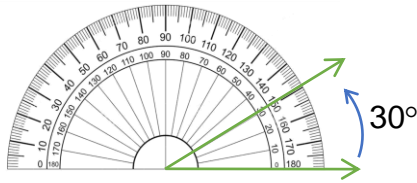


Даалгавар	1	2	3	4
Өөрийн үнэлгээ	😊	😊	😊	😊



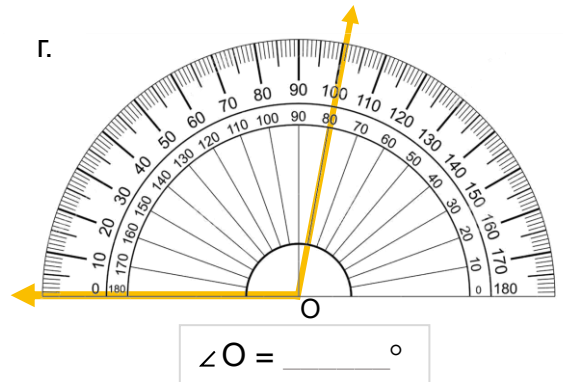
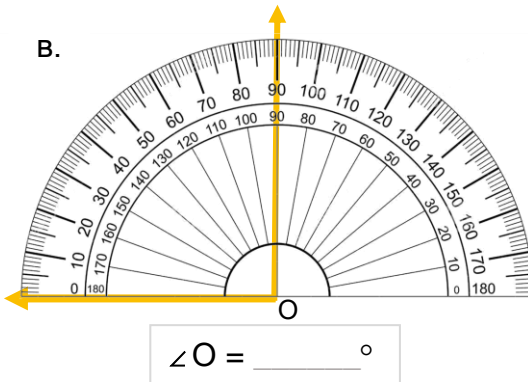
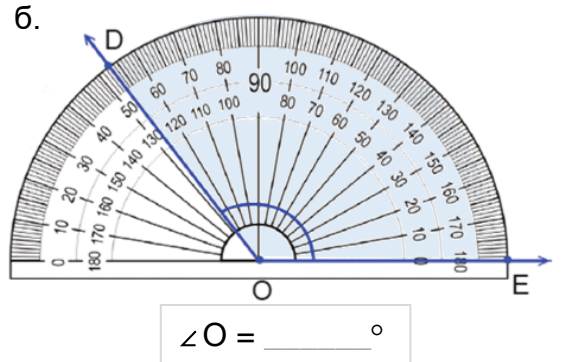
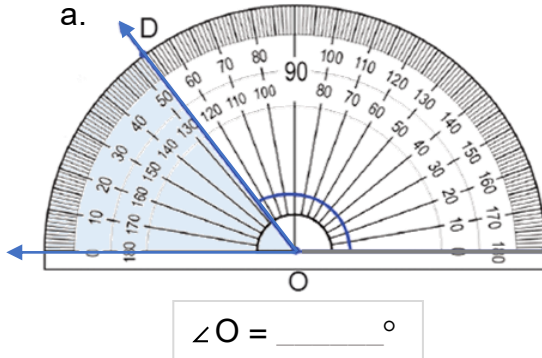
Сурагчийн нэр:

Эхэлсэн: он сар өдөр

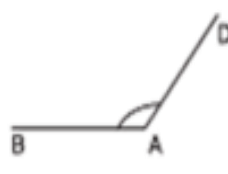
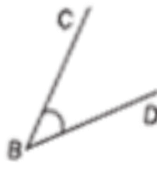


Өнцгийн хэмжээг
транспортирээр хэмждэг.

1 Өнцөг тус бүрийн хэмжээг бичээрэй.

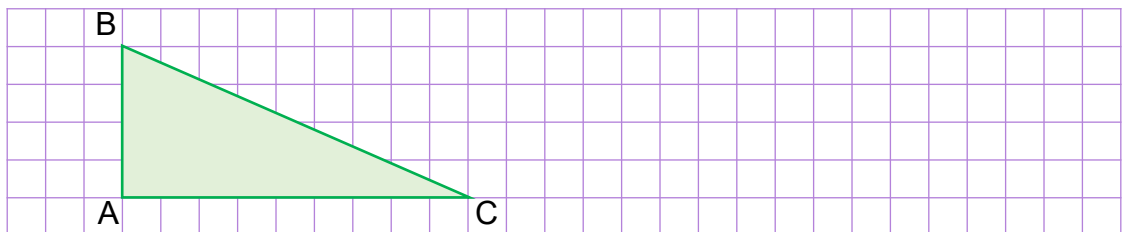


2 Өнцөг тус бүрийг транспортироор хэмжиж, хэмжээг бичээрэй.



$\angle O = \underline{\hspace{2cm}}^\circ$
 $\angle B = \underline{\hspace{2cm}}^\circ$
 $\angle A = \underline{\hspace{2cm}}^\circ$

3 Гурван өнцгийг транспортироор хэмжиж, өнцгийн хэмжээг эрэмбэлээрэй.



Дууссан:сарөдөр



Даалгавар	1	2	3
Өөрийн үнэлгээ			

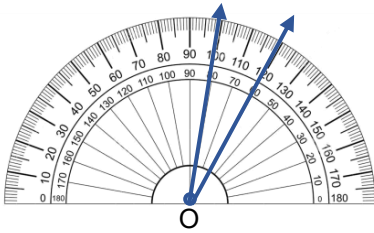


Сурагчийн нэр:

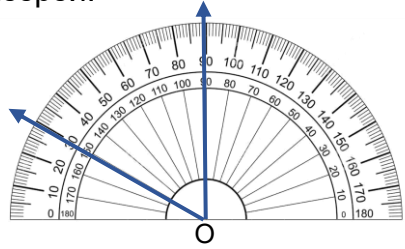
Эхэлсэн: он сар өдөр

1 Өнцөг тус бүрийн хэмжээг тооцоолж, бичээрэй.

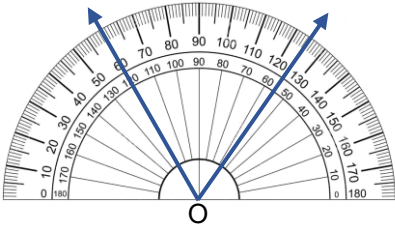
а.



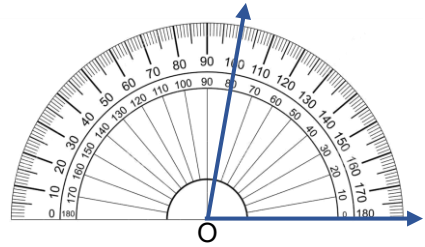
б.



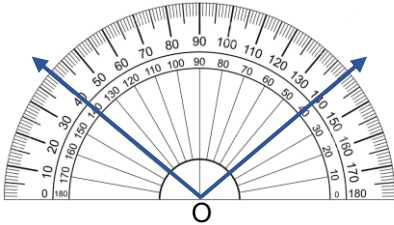
в.



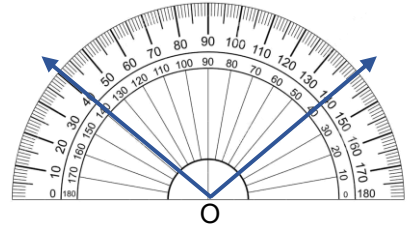
г.



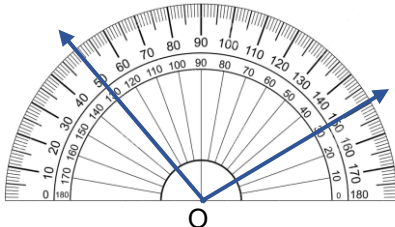
д.



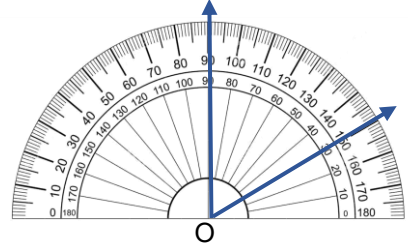
е.



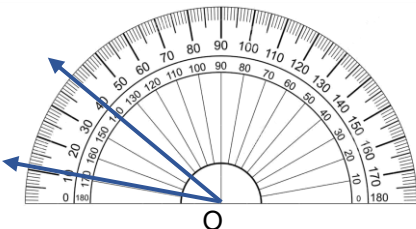
ж.



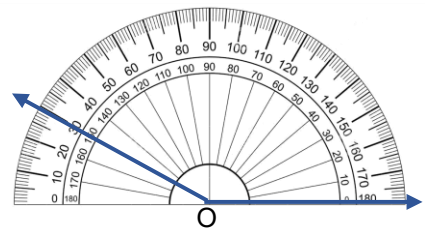
з.



и.

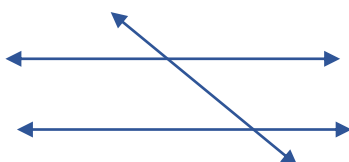


к.



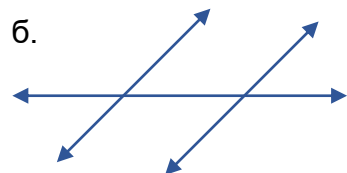
2 Өнцгүүдийг транспортироор хэмжиж, тэнцүү хурц өнцгийн хэмжээг бичээрэй.

а.



° = °

б.



° = °

Дууссан:сарөдөр



Даалгавар	1	2
Өөрийн үнэлгээ		